

Od lovca k roľníkovi

Meno a priezvisko: Trieda:



Toto je praveký Volá sa

Meno dostal podľa

Čo si chcem o ňom zapamätať? (napíš si, čo ťa zaujalo)

.....
.....
.....

Jeho objavenie je veľmi významné pretože



.....
.....

Tieto praveké nástroje mu patrili. Poznáš ich? Napíš čo predstavovali.



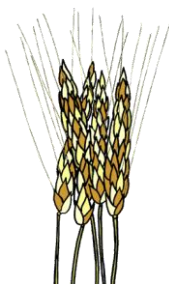
.....
.....

Pomenuj tieto spôsoby obživy pravekých ľudí. Ktorý bol starší?



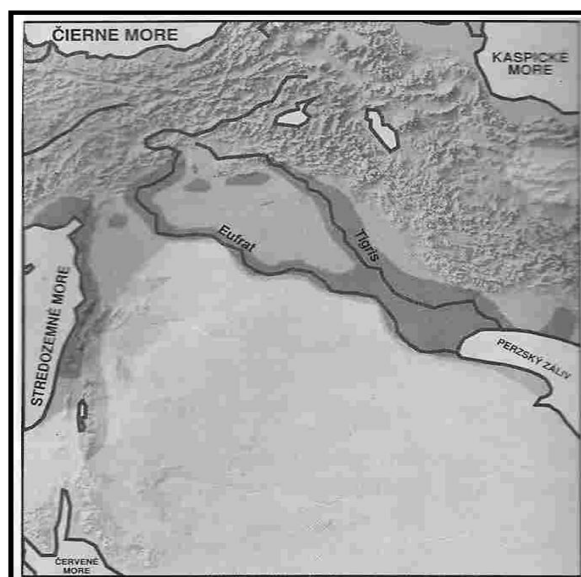
.....

.....



Zakresli do tejto mapy „pravlat' obilia“. Tieto miesto, kde sa ľudia naučili pestovať obilie.

Pol'nohospodárstvo vzniklo pred rokmi.

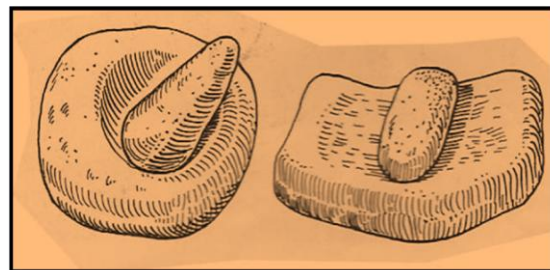
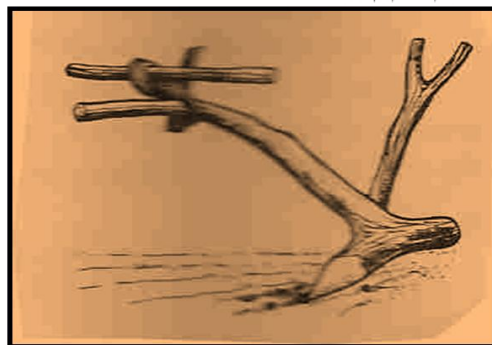



Pomenuj tieto nástroje pravekých poľnohospodárov.



.....

.....



PRÍNOS POĽNOHOSPODÁRSTVA BOL V TOM, ŽE: (pomôž si obrázkami)

1.
2.
3.

