

Limes Romanus

Meno a priezvisko: Trieda:

Napiš, čo vieš o rímskom vojsku a rímskych légiách.



Zakresli do tejto mapy obrys hraníc - rozsahu Rímskej ríše. Na území, ktorých štátov sa nachádzala:



.....

.....

.....

.....

.....

.....

.....

.....




Rímske hranice nazývané slúžili na


STAVITELIA LIMES ROMANUS



.....
.....
.....



.....
.....
.....



.....
.....
.....



Farebne zvýrazni časť Limes Romanus nazývajú
HADRIANOV VAL.

Na území akého štátu sa nachádza?

.....

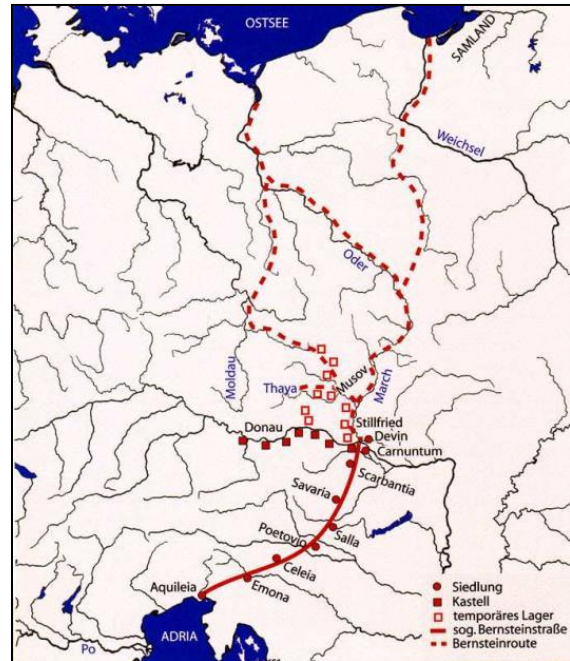
FUNKCIE LIMES ROMANUS:

-
-
-

Toto je mapa JANTÁROVEJ CESTY. Nájdi na mape známe mesta. Skús na mape zvýrazniť územie nášho štátu.

Ktoré známe mestá si našiel?

-
-
-



RÍMSKE TÁBORY NA NAŠOM ÚZEMÍ:

- RUSOVCE -
- IŽA PRI KOMÁRNE -
- DEVÍN

RÍMSKY CISÁR NA NAŠOM ÚZEMÍ - volal sa

Čo viete o jeho návšteve?

-
-



Tento nápis sa nachádza

Datovaný je

Je pamiatkou na

Popíš jednotlivé časti

Limes Romanus.

