

# Od praveku k starovekým riečnym civilizáciám

Meno a priezvisko: ..... Trieda: .....

1) Čo sú to **venuše**? (2 správne odpovede)

- a) praveké poľnohospodárske náradie
- b) praveké sošky
- c) praveké zbrane
- d) druh pravekého umenia




2) Kde sa nachádza pravlast' **poľnohospodárstva** / obilia?

(2 správne odpovede)

- a) v Starovekom Egypte
- b) v Starovekej Mezopotámii
- c) v Starovekej Indii
- d) medzi Kaspickým a Čiernym morom

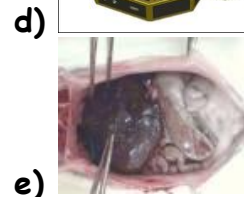
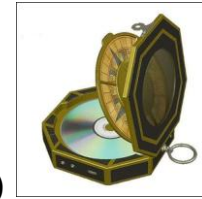
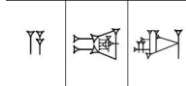
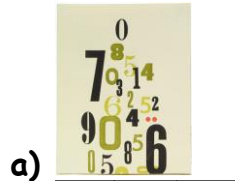
3) Ako sa volal človek, ktorý **rozdelil pravek** na 3 obdobia?



4) **Starovekú Indiu** by sme našli medzi riekami?

- a) medzi Žltou a Dlhou riekou
- b) pri rieke Níl
- c) Indus a Ganga
- d) Eufkrat a Tigris

**5) Označ tie vynálezy, ktorých autormi sú obyvatelia Starovekej Mezopotámie!**



**6) Starovekú Čínu by sme hľadali pri riekach? (2 správne odpovede)**

- a) Chuan-che a Jang c' t'iang
- b) Žltej a Dlhej rieke
- c) Eufrat a Tigris
- d) Indus a Ganga
- e) pri rieke Níl

**7) Podľa čoho rozdelil Christian Thomsen pravek? Aký kľúč na to použil?**

- a) podľa farby predmetov
- b) podľa tvaru predmetov
- c) ako sa mu páčilo
- d) podľa materiálov, z akých boli praveké predmety vytvorené



**8) Ch. Thomsen rozdelil pravek na?**

- a) dobu keramiky - dobu medenú - dobu kovovú
- b) dobu kamennú - dobu bronzovú - dobu železnú
- c) dobu kamennú - dobu medenú - dobu bronzovú

d) dobu hlinenú - dobu kamennú - dobu kovovú


**9) Ako nazývali panovníka v Starovekom Egypte?**




**10) Staroveký Egypt sa nachádzal medzi riekami?**

- a) pri rieke Níl
- b) Indus a Ganga
- c) Tigris a Eufrat
- d) Chuan-che a Jang c'ťiang

**11) Označ stavby, ktoré by sme našli v Starovekom Egypte!**





**12) V ktorej starovekej krajine stavali ZIKKURATY?**


- a) v Indii
- b) v Číne
- c) v Egypte
- d) v Mezopotámii



**13) Staroveká Mezopotámia vznikla pri riekach?**

- a) pri rieke Níl
- b) Dlhou a Žltou riekou
- c) Indus a Ganga
- d) Tigris a Eufrat

**14) Správne pomenuj vývojové stupne ľudského druhu v slovenskom jazyku! Zároveň ich správne usporiadaj v časovom slede, od najstaršieho (1) po najmladšieho (5). Číslo vpiš do  pri obrázku.**



HOMO SAPIENS



HOMO ERECTUS .....



HOMO SAPIENS SAPIENS .....



HOMO S. NEANDERTAL .....



HOMO HABILIS .....